

Welk land staat er bij jou op tafel?

Om die vraag te beantwoorden moet je weten welke landen producten exporteren en verkopen op de wereldmarkt. Ook moet je weten dat het antwoord op de vraag afhangt van het seizoen.

's Winters komen producten ergens anders vandaan dan in de zomer.

Landbouw voor de wereld

Landbouwproducten die voor de wereldmarkt zijn bedoeld, zijn duur. Er is veel energie en er zijn veel grondstoffen nodig om ze te produceren. Toch kunnen mensen in rijke landen het voedsel betalen, omdat ze veel geld verdienen met ander werk. Bijvoorbeeld: werk in de dienstverlening.

In rijke landen werken nog maar heel weinig mensen in de landbouw. Toch exporteert een rijk land als Nederland veel landbouwproducten naar het buitenland. Nederland importeert ook voedsel. Bijvoorbeeld producten die alleen in de tropen groeien zoals; cacao, bananen en koffie. Maar ook producten die bij ons alleen in de zomer worden geoogst, zoals sperziebonen.

In Egypte worden stukken woestijn door irrigeren geschikt gemaakt voor de landbouw. Daar liggen de plantages met sperziebonen. De marktprijs van sperziebonen is niet hoog, want het arbeidsloon van de plukkers is laag. Toch zorgt de export ervoor dat de welvaart in Egypte toeneemt.

Landbouw voor jezelf

In armere landen werken meer mensen in de landbouw. Er is geen geld voor machines. De opbrengst van het land is genoeg om van te eten en om iets te ruilen. Soms is er nog wat over om te verkopen op de dorpsmarkt.

Als een boer genoeg verdient, dan kan hij samen met andere boeren machines kopen. Hun producten verkopen ze in de steden. Sommige landbouwgebieden leveren altijd te weinig op. Er is nergens geld voor. Die gebieden zijn zelfvoorzienend. In een droog klimaat mislukt de oogst regelmatig. Soms vreten dieren ook de voedselvoorraad op. Hulporganisaties geven voedselhulp; in ruil daarvoor bouwen de bewoners waterputten of wegen.

Toplijst

- Egypte
- Ethiopië
- Irak
- Iran
- Israël
- Marokko
- Nigeria
- Saudi-Arabië
- Bagdad
- Cairo
- Casablanca
- Jeruzalem
- Lagos
- Mekka
- Teheran
- de Sahara

Begrippen

- het arbeidsloon
- de dienstverlening
- irrigeren
- de marktprijs
- de plantage
- de voedselhulp
- de voedselvoorraad
- de wereldmarkt
- zelfvoorzienend



3 Welk land staat er bij jou op tafel?



Woordenboekje

de cacao (je zegt: kaakau)

bruin poeder dat wordt gemaakt van de cacao boon

Van cacao wordt chocola gemaakt.

de delta

een gebied waar een rivier zich splitst in een heleboel kleine riviertjes, die uitkomen in zee

De Nijldelta in Egypte is een vruchtbaar landbouwgebied.

de energie

stroom en brandstof die nodig zijn voor verlichting, verwarming of beweging

Het kost veel energie om sperziebonen per vliegtuig naar Nederland te brengen.

kappen

omhakken

Door het kappen van bomen verdwijnen bossen.

de oase

een plek in de woestijn waar water is, waardoor er planten en bomen kunnen groeien

Na een lange tocht door de woestijn bereikten we gelukkig een oase. Eindelijk hadden we weer water!

oogsten

groente en graan van het land halen en fruit plukken als het rijp is

In Ethiopië helpen ook de kinderen mee met het oogsten van teff.

de palmolie

olie die wordt geperst uit de vruchten van de olie palm

Palmolie is een belangrijke grondstof voor onder andere margarine, chips, koekjes en zeep.

verbouwen

iets op een stuk land laten groeien

In Egypte worden sperziebonen verbouwd.

de welvaart

Als er welvaart is in een land, hebben mensen genoeg geld, eten, drinken en een huis.

Nederland is een rijk land: de welvaart is groot.

de winst

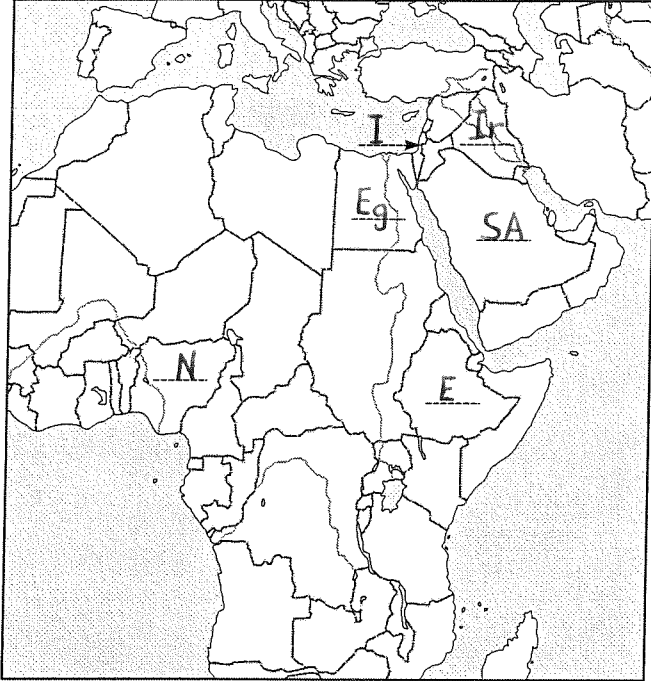
Als je winst maakt, verkoop je iets voor meer geld dan het je zelf heeft gekost.

Joep heeft 24 blikjes cola gekocht voor € 0,40 per stuk. Op de vrijmarkt heeft hij ze allemaal verkocht voor € 1 per stuk. Hij heeft dus € 14,40 winst gemaakt.

Herhaling topografie 3

Naam:


1 Zet de onderstreepte letters op de goede plaats op de kaart. Israël, Egypte, Saudi-Arabië, Irak, Nigeria, Ethiopië



2 Lees de namen en de zinnen hieronder door. Trek een lijntje tussen de naam en de zin die bij elkaar passen.

- | | | |
|--------------|---|--|
| Saudi-Arabië | ■ | Dit land exporteert veel sinaasappels naar landen in Europa. |
| Marokko | ■ | ■ Bij de oases in de woestijn zijn veel plantages met dadelpalmen. |
| Sahara | ■ | ■ Op het platteland zie je veel schapen en geiten rondlopen. |
| Iran | ■ | ■ Vanuit de haven van Lagos wordt koffie en cacao geëxporteerd. |
| Nigeria | ■ | ■ Dit is een héél grote zandwoestijn. |

3 In welk restaurant kun je vooral Irakese gerechten eten? Kruis het goede hokje aan.



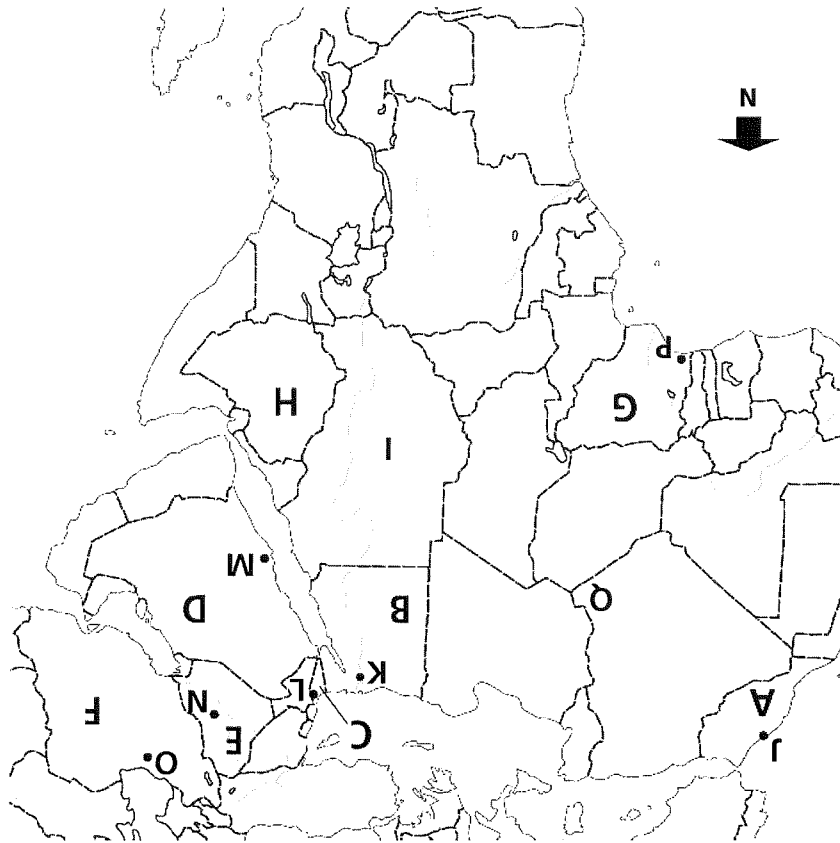
4 Wie moet het minst ver reizen? Kruis het goede hokje aan. Iemand die reist van:

- Jeruzalem naar Casablanca
- Jeruzalem naar Cairo
- Lagos naar Cairo
- Lagos naar Casablanca

5 Wat voor gerechten kun je vinden in dit kookboek? Kruis het goede hokje aan.

- Egyptische gerechten
- Iraanse gerechten
- Marokkaanse gerechten
- Nigeriaanse gerechten





- 1**) Noem de letters A t/m I en zeg welk land het is.
A = Marokko, B = Egypte, C = Israël, D = Saudi-Arabië, E = Irak, F = Iran, G = Nigeria, H = Ethiopië, I = Sudan
Noem de letters J t/m P en zeg welke plaats het is.
J = Casablanca, K = Cairo, L = Jeruzalem, M = Mekka, N = Bagdad, O = Teheran, P = Lagos
Hoe heet het gebied met de letter Q? *de Sahara*
- 2**) Welk land ligt in Afrika? Nigeria of Irak? *Nigeria*
- 3**) Welke plaats ligt ten zuiden van de Sahara? Lagos of Casablanca? *Lagos (letter P)*
- 4**) Welke plaats op de kaart passeer je als je reist van Jeruzalem naar Teheran?
Bagdad (letter N)
- 5**) Welk land grenst aan Egypte? Israël of Marokko? *Israël*
- 6**) Welke plaats ligt het dichtst bij Mekka? Bagdad of Lagos? *Bagdad (letter N)*
- 7**) Welk land ligt ten zuiden van Egypte? Ethiopië of Iran? *Ethiopië*
- 8**) Wanneer passeer je onderweg de Sahara? Als je vanuit Egypte reist naar Marokko of naar Saudi-Arabië? *Marokko*